





# Drukbare assesserings CAMI Wiskunde: Graad 4

## 3. Vorm en ruimte

### 3.1 Eienskappe van 2-D vorms.


1.1 Benoem die volgende figure:



(a) ..... (b) ..... (c) ..... (d) .....


1.2 Bepaal die aantal vorme wat in die figure voorgestel word.

(a)



Vorm	Aantal
Sirkel	
Vierkant	

(b)




Vorm	Aantal
Sirkel	
Vierkant	
Reghoek	
Driehoek	



# Drukbare assesserings CAMI Wiskunde: Graad 4

(c)



Vorm	Aantal
Sirkel	
Vierkant	
Reghoek	
Driehoek	



# Drukbare assesserings CAMI Wiskunde: Graad 4

## MEMO

CAMI Oefeninge: [8.1.1.2; 8.1.1.5]

- 1.1 (a) **Reghoek**  
(b) **Sirkel**  
(c) **Vierkant**  
(d) **Driehoek**

- 1.2 (a)

Vorm	Aantal
Sirkel	<b>8</b>
Vierkant	<b>1</b>

- (b)

Vorm	Aantal
Sirkel	<b>4</b>
Vierkant	<b>1</b>
Reghoek	<b>5</b>
Driehoek	<b>1</b>

- (c)

Vorm	Aantal
Sirkel	<b>5</b>
Vierkant	<b>1</b>
Reghoek	<b>6</b>
Driehoek	<b>6</b>