



# Drukbare assesserings CAMI Wiskunde: Graad 4


## 5. Datahantering

### 5.1 Data versameling en organisasie

1. Voltooi die tabel deur gebruik te maak van die gegewe prentjie.


1.1

Driehoek	Tellings	Frekwensie
Groen		
Rooi		
Blou		
Geel		



1.2

Vrugte	Tellings	Frekwensie
Aarbeie		
Appel		
Tamatie		
Druiwetrosse		






# Drukbare assesserings CAMI Wiskunde: Graad 4

1.3

Blomme	Tellings	Frekwensie
Rooi		
Blou		
Groen		
Geel		



1.4 Die gegewe data items verteenwoordig motors wat 'n besige interseksie kruis om 12 uur in die middag.

B, B, R, G, W, B, R, R, G, B, W, W, W, R, B, G, B

Complete the tally and frequency table.

Data items	Tallies	Frequency
Blou (B)		
Rooi (R)		
Geel (G)		
Wit (W)		



# Drukbare assesserings CAMI Wiskunde: Graad 4

## MEMO

### 1.1 [10.1.1.3]

Driehoek	Tellings	Frekwensie
Groen		6
Rooi		4
Blou		8
Geel		5

### 1.2

Vrugte	Tellings	Frekwensie
Aarbei		9
Appel		10
Tamatie		4
Druie		6

### 1.3

Blomme	Tellings	Frekwensie
Rooi		7
Blou		5
Groen		6
Geel		4

### 1.4 [10.1.1.4]

Data items	Tellings	Frekwensie
Blou (B)		6
Rooi (R)		4
Geel (G)		3
Wit (W)		4