



Drukbare assessering CAMI Wiskunde: Graad 6

Projeksies en koördinate

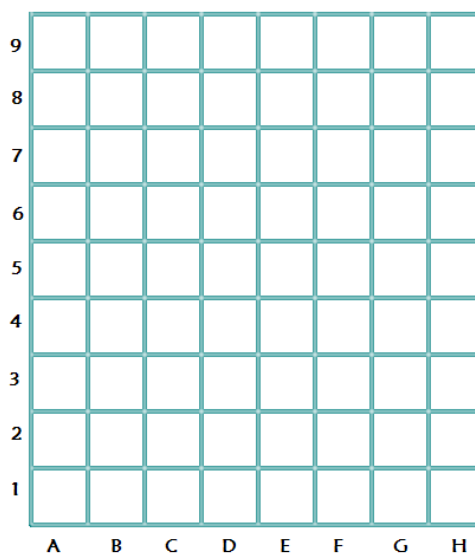

1. Afbeelding op 'n rooster.

(a) Teken sirkels op die volgende blokkies:

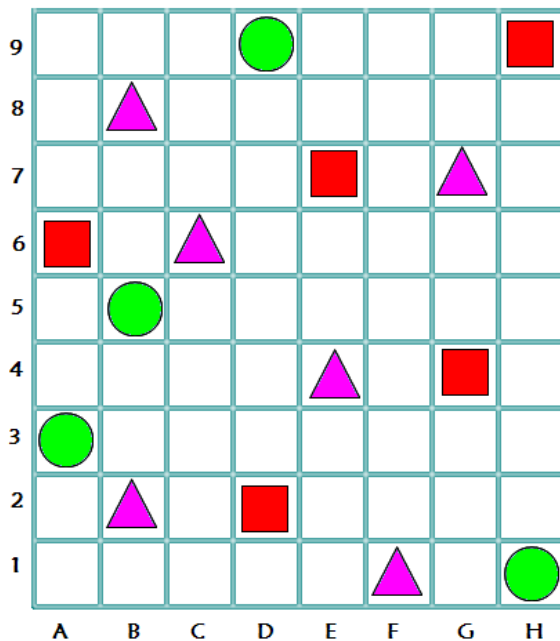
A3 ; B5 ; D9 : H1

(b) Teken driehoeke op die volgende blokkies:

E4 ; G5 ; H2



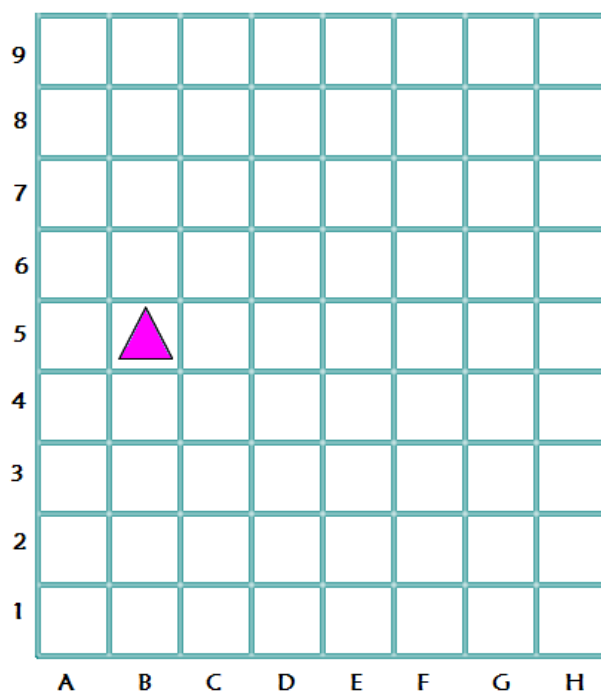
2. Gee die koördinate van al die rooi vierkante.






Drukbare assessering CAMI Wiskunde: Graad 6

3. Gebruik die gegewe rooster om die vrae te beantwoord.



- (a) Wat sal die koördinate wees as die driehoek 3 blokkies suid en 1 blokkies oos geskuif word?
- (b) Wat sal die koördinate wees as die driehoek 3 blokkies noord en 5 blokkies oos geskuif word?

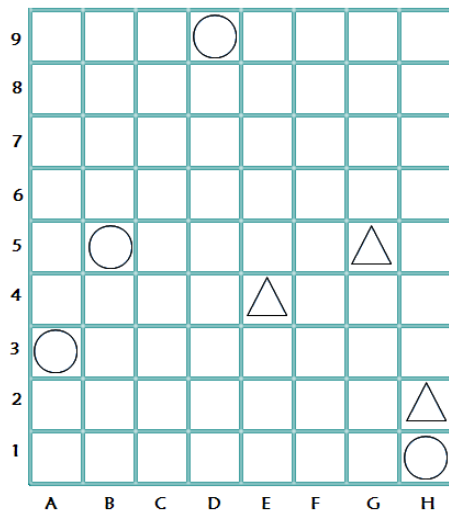




Drukbare assessering CAMI Wiskunde: Graad 6

MEMO

1. Afbeelding op 'n rooster. [9.6.1.1]



2. Gee die koördinate van al die rooi vierkante. [9.6.1.2]

A6 ; D2 ; E7 ; G4 ; H9

3. Gebruik die gegewe rooster om die vrae te beantwoord. [9.6.1.3]

- (a) C2
- (b) G8

