



Drukbare assessering CAMI Wiskunde: Graad 6

Eienskappe van 3D voorwerpe

1. Benoem die volgende voorwerpe.

(a)



(b)



(c)





(d)



(e)



2. Beskryf die 3D voorwerpe in terme van hoekpunte, vlakke en rande

Objects	Aantal Vlakke	Aantal Hoekpunte	Aantal Rande
			
			





Drukbare assessering CAMI Wiskunde: Graad 6

MEMO

1. Benoem die volgende 3D voorwerpe. [8.1.2.4]

- (a) Kubus
- (b) Driehoekige prisma
- (c) Reghoekige prisma
- (d) Silinder
- (e) Piramide

2. Eienskappe van prisma's. [8.1.2.5]

Voorwerp	Aantal Vlakke	Aantal Hoekpunte	Aantal Rande
	6	8	12
	5	6	9