

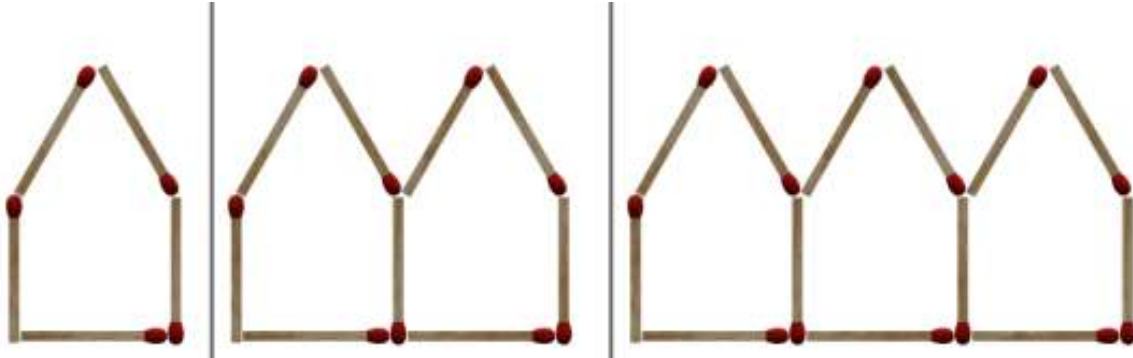


Drukbare assessering CAMI Wiskunde: Graad 9

Getal en prentpatrone


1. Voltooi die gegewe tabel.

1.1



Term	1	2	3
Aantal vuurhoutjies			

1.2



Term	1	2	3
Aantal bakstene			


2. Gee die volgende twee terme in die gegewe getal ry.

2.1 21 ; 20,6 ; 20,2 ; 19,8 ; ;

2.2 2,5 ; 3 ; 3,5 ; 4 ; 4,5 ; ;



Drukbare assessering CAMI Wiskunde: Graad 9





Drukbare assessering CAMI Wiskunde: Graad 9

MEMO

1. Voltooi die gegewe tabel. [4.1.1.8]

1.1

Term	1	2	3
Aantal vuurhoutjies	5	9	13

1.2

Term	1	2	3
Aantal bakstene	4	8	12

2. Gee die volgende twee terme in die gegewe getal ry. [4.1.2.8; 4.1.2.9]

2.1 21 ; 20,6 ; 20,2 ; 19,8 ; **19,4 ; 19**

2.2 2,5 ; 3 ; 3,5 ; 4 ; 4,5 ; **5 ; 5,5**

